












Cherche toutes les voitures que l'on peut fabriquer.

3



Lola et Sami ont commandé des jouets.

4

					
					
Lola	✗		✗	✗	
Sami		✗		✗	✗

Calcule ce que doit payer Lola.

$$5 + 5 + 7 = 17$$

Lola doit payer .....17..... euros.

Calcule ce que doit payer Sami.

$$2 + 7 + 3 = 12$$

Sami doit payer .....12..... euros.

Le nombre mystère: entoure l'étiquette qui ne correspond à aucune addition.

8 + 3

6 + 3

9 + 3

7 + 3

9

10

11

13

12